

# 自擬題目(小數加減)

班別: 四 ( )

姓名: 鄧亦桐

日期: \_\_\_\_\_

題目: 伊晴有11.4元, 子希有22.7元, 他們  
想買一個筆袋送給陳老師, 筆袋售56.3  
元, 他們還欠多少元?

計算過程:

$$56.3 - (11.4 + 22.7) \\ = 56.3 - 34.1 \\ = 22.2$$

他們還欠 22.2 元

$$\begin{array}{r} 11.4 \\ + 22.7 \\ \hline 34.1 \end{array} \quad \begin{array}{r} 56.3 \\ - 34.1 \\ \hline 22.2 \end{array}$$



# 自擬題目(周界)

班別：四(謙)

姓名：謝子齊

日期：二月十一日



題目：


星期日，小瞳在家中用七巧版的其中兩塊最大的等腰直角三角形拼砌出一個正方形。正方形的邊長90毫米，正方形的周界是多少厘米？

計算過程： $9 \times 4$

$= 36$

∴ 正方形的周界是 36 厘米

$$\begin{array}{r} 9 \\ \times 4 \\ \hline 36 \end{array}$$




# 自擬題目(周界)

班別：四(謙)

姓名：鄭敏希

日期：12-2-2022



題目：


一張正方形手工紙的邊長是15厘米，陳老師把9張正方形手工紙拼成一個大正方形，大正方形的周界是多少？

計算過程： $15 \times 12$

$= 180$

∴大正方形的周界是180厘米

$$\begin{array}{r} 15 \\ \times 12 \\ \hline 30 \\ 150 \\ \hline 180 \end{array}$$



# 周界