


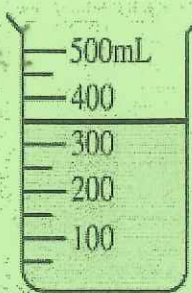

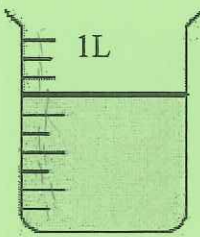

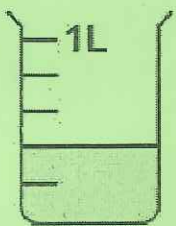
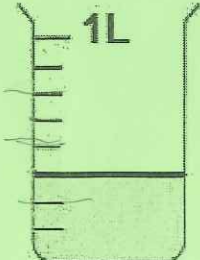

姓名：江晞瑜 (13)

班別：三 謙


成績：12 / 12

日期：17-6-2022

看一看，填一填。量杯內有多少果汁？


<p>1.</p>  <p>量杯上， 每一小格表示 <u>100</u> mL 有果汁 <u>500</u> mL</p>	<p>2.</p>  <p>量杯上， 每一小格表示 <u>50</u> mL 有果汁 <u>350</u> mL</p>
<p>3.</p>  <p>量杯上， 每一小格表示 <u>25</u> mL 有果汁 <u>75</u> mL</p>	<p>4.</p>  <p>量杯上， 每一小格表示 <u>100</u> mL 有果汁 <u>700</u> mL</p>
<p>5.</p>  <p>量杯上， 每一格表示 <u>100</u> mL 有果汁 <u>400</u> mL</p>	<p>6.</p>  <p>量杯上， 每一格表示 <u>200</u> mL 有果汁 <u>400</u> mL</p>
<p>7.</p>  <p>量杯上， 每一格表示 <u>125</u> mL 有果汁 <u>375</u> mL</p>	<p>8.</p>  <p>量杯上， 每一格表示 <u>250</u> mL 有果汁 <u>500</u> mL</p>

9.





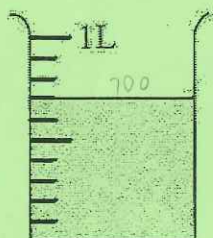
量杯上，
每一格表示 125 mL
有果汁 375 mL

10.



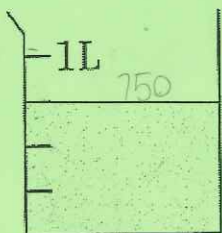
量杯上，
每一大格表示 200 mL
每一小格表示 100 mL
三個量杯共有果汁 2300 mL

11.

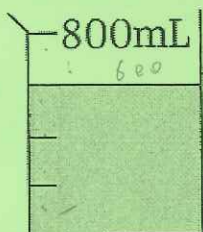


量杯內的水剛好注滿 4 個杯子，每個杯子的容量是 250 mL。

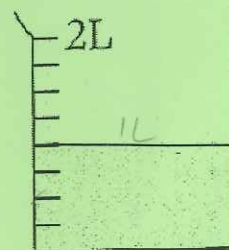
12. 把下列三個量杯內的水，由少至多排列出來。把代表答案的英文字母寫在橫線上。



容器 A



容器 B



容器 C

答案：容器 B < 容器 A < 容器 C